



## COMUNE DI COMO

Concorso pubblico, per soli esami, per la copertura di n. 13 posti nel profilo di  
"Istruttore amministrativo" - Categoria C - a tempo pieno e indeterminato



### PROVA 05

# NON STRAPPARE

L'INVOLUCRO DI PLASTICA PRIMA CHE VENGA  
DATO L'APPOSITO SEGNALE

Incollare sulla scheda delle risposte  
il codice a barre sottostante:

Codice questionario



Prodotto con cellulosa certificata  
FSC

AZIENDA CON SISTEMA  
DI GESTIONE QUALITÀ  
CERTIFICATO DA DNV  
= ISO 9001 =

1

**Il debito pubblico è:**

- A** il debito dello Stato verso coloro che hanno finanziato i disavanzi passati prestando denaro o sottoscrivendo titoli di Stato
- B** il debito dei cittadini nei confronti dell'estero
- C** la differenza fra ricavi (entrate) e costi (uscite) della Pubblica Amministrazione
- D** il debito dello Stato nei confronti degli Stati esteri

2

**Quale, tra i soggetti od organi elencati di seguito, NON può presentare proposte di legge alle Camere ai sensi della Costituzione italiana?**

- A** I Comitati Interministeriali, anche relativamente alle materie di loro competenza
- B** Il CNEL, anche in materia di economia e lavoro
- C** I Consigli regionali, anche per le leggi interessanti le Regioni
- D** Il popolo, mediante la proposta di un progetto redatto in articoli, da parte di almeno centomila elettori

3

**Le sedute plenarie del Parlamento europeo si riuniscono nelle sedi di:**

- A** Strasburgo e Bruxelles
- B** Parigi e Berlino
- C** Roma e Londra
- D** Lussemburgo e Anversa

4

**In base alla Costituzione italiana, il comando delle Forze Armate è esercitato dal:**

- A** Presidente della Repubblica
- B** Capo di stato maggiore dell'esercito
- C** Presidente del Consiglio dei Ministri
- D** Ministro della Difesa

5

**Tre marinai sbucciano un sacco di patate rispettivamente in 4, 6 e 12 ore. Quante ore impiegano a sbucciare insieme le patate di 50 sacchi?**

- A** 100
- B** 12
- C** 22
- D** 200

6

**Una fotocamera viene messa in vendita su Internet al prezzo di 510,00 €. Sapendo che le commissioni da corrispondere al sito sono pari al 14%, il ricavo netto sarà di:**

- A** 438,6 €
- B** 71,4 €
- C** 581,4 €
- D** 714 €

- 7 Da un'urna contenente 15 palline numerate da 1 a 15, viene estratta, a occhi bendati, una pallina. Supponendo che tutte le palline abbiano le stesse probabilità di essere estratte, qual è la probabilità che esca un numero dispari?
- A** 8/15
  - B** 7/15
  - C** 1/4
  - D** 1/3

- 8 La piccola Ada sta giocando con 318 tessere quadrate di legno colorato, tutte delle stesse dimensioni. Costruisce con le tessere, affiancandole, il più grande quadrato possibile. Considerando il lato di ogni tessera come unità di misura  $u$ , quanto vale il perimetro del quadrato ottenuto?
- A** 68  $u$
  - B** 64  $u$
  - C** 106  $u$
  - D** 238  $u$

- 9 Qual è la negazione della frase "Ogni città dell'Umbria ha almeno due campanili"?
- A** Almeno una città dell'Umbria ha al più un campanile
  - B** Tutte le città dell'Umbria hanno un campanile
  - C** Nessuna città dell'Umbria ha due campanili
  - D** Almeno una città dell'Umbria non ha campanili

- 10 "Tutti gli sciatori sono spericolati; Francesco è spericolato; tutti gli sciatori sono alti". In base alle precedenti affermazioni, quale delle seguenti è necessariamente vera?
- A** Nessuno sciatore è spericolato e basso
  - B** Francesco è uno sciatore
  - C** Tutti gli spericolati sono sciatori
  - D** Tutti gli spericolati sono alti

- 11 "Non si può non negare l'inesistenza di un simile pensiero". Questa frase equivale a dire che:
- A** si deve affermare l'esistenza di un simile pensiero
  - B** non si può affermare l'esistenza di un simile pensiero
  - C** si può pensare, ma non così
  - D** un simile pensiero non può esistere

- 12 Quale, tra i termini proposti, completa correttamente la seguente proporzione? Procetta : burrasca = X : Y
- A** X = tempesta; Y = tempesta
  - B** X = libeccio; Y = maremoto
  - C** X = terremoto; Y = uragano
  - D** X = maestrale; Y = neve

- 13 Secondo l'art. 65 del d.P.R. 445/2000, il sistema per la gestione dei flussi documentali deve rispondere a determinati requisiti, che sono riportati nelle alternative seguenti. Una di esse però è ERRATA. Quale?
- A** Consentire primariamente l'accesso diretto del cittadino alle informazioni che lo riguardano
  - B** Fornire informazioni statistiche sull'attività dell'ufficio
  - C** Fornire informazioni sul legame esistente tra ciascun documento registrato, il fascicolo e il singolo procedimento cui esso è associato
  - D** Consentire lo scambio di informazioni con i sistemi per la gestione dei flussi documentali di altre amministrazioni

- 14 Secondo la legge 241/1990, il provvedimento amministrativo è annullabile:
- A** qualora sia viziato da eccesso di potere
  - B** quando è stato adottato in violazione del giudicato
  - C** quando è viziato da un difetto assoluto di attribuzione
  - D** per mancata comunicazione dell'avvio del procedimento anche qualora l'amministrazione dimostri in giudizio che il contenuto del provvedimento non avrebbe potuto essere diverso da quello in concreto adottato

- 15 Dispone l'art. 35, comma 5-ter del d.lgs. 165/2001 che le graduatorie dei concorsi per il reclutamento del personale presso le Amministrazioni Pubbliche rimangono vigenti:
- A** per un termine di tre anni dalla data di pubblicazione, salvo disposizioni normative specifiche
  - B** per un termine di cinque anni dalla data di pubblicazione, salvo disposizioni normative specifiche
  - C** per un termine di due anni dalla data di pubblicazione, aumentabili a tre tramite il contratto collettivo integrativo
  - D** fino al loro esaurimento, nell'ottica del contenimento della spesa pubblica

- 16 Se il pubblico ufficiale, nell'esercizio delle sue funzioni, giovandosi dell'errore altrui, ritiene indebitamente per sé una somma di denaro:
- A** commette il reato di peculato mediante profitto dell'errore altrui
  - B** commette il reato di concussione
  - C** non risponde del reato di peculato, essendosi semplicemente giovato dell'errore altrui
  - D** non commette alcun reato, in quanto l'errore altrui giustifica la condotta

- 17 In base alle disposizioni del TUEL (Testo Unico delle leggi sugli ordinamenti degli enti locali), la legge assicura agli enti locali potestà impositiva autonoma nel campo:
- A** delle imposte, delle tasse e delle tariffe
  - B** delle tasse e delle tariffe, ma non delle imposte
  - C** delle imposte e delle tariffe, ma non delle tasse
  - D** delle sole imposte e di eventuali addizionali

- 18 Se le lancette di un orologio segnano le 17.30 di giovedì, tra 40 ore e 45 minuti saranno:
- A** le 10.15 di sabato
  - B** le 6.15 di martedì
  - C** le 22.15 di domenica
  - D** le 10.15 di lunedì

- 
- 19 **Rispondere al seguente quesito facendo riferimento al BRANO AC 83** E00002  
**Che cosa si intende nel contesto del brano con il termine [1] turn-over?**
- A** Ricambio di personale
  - B** Giro d'affari
  - C** Capovolgimento delle mansioni
  - D** Pianificazione del lavoro

- 
- 20 **Rispondere al seguente quesito facendo riferimento al BRANO AC 83** E00001  
**Dal brano è possibile evincere che la gig economy:**
- A** è un modello economico basato su forme di lavoro non tradizionali e non permanenti
  - B** è un modello economico basato su prestazioni lavorative continuative
  - C** costituisce un'opportunità lavorativa durante gli studi per la maggior parte dei soggetti analizzati dal rapporto annuale dell'Inps
  - D** è stata oggetto di critica da parte dell'Inps nel suo rapporto annuale

- 
- 21 **Rispondere al seguente quesito facendo riferimento al BRANO AC 83** E00003  
**Che cosa intende l'autore del brano con l'espressione [2] "Per regolare queste forme di lavoro serve il cesello e non l'accetta"?**
- A** Una regolamentazione che si adatti alle nuove e diverse forme di lavoro presuppone una loro considerazione nel particolare e non una stroncatura sulla base della regolamentazione vigente, che per esse oggi non trova ancora un'applicazione adeguata
  - B** Le nuove forme di lavoro non possono essere regolamentate sulla base della tradizionale regolamentazione e, di conseguenza, esse vanno corrette in linea con quanto messo a disposizione dalla normativa vigente in materia di lavoro
  - C** La regolamentazione vigente in materia di lavoro offre oggi la possibilità di accettare le nuove e diverse forme di lavoro, poiché è previsto l'impiego di risorse economiche per la copertura assicurativa dei relativi lavoratori
  - D** Per regolarizzare le nuove tipologie di lavoro è necessario considerarle per tipologia ed escludere quelle per cui è impossibile una tracciatura online e una copertura assicurativa dei lavoratori

- 
- 22 **Rispondere al seguente quesito facendo riferimento al BRANO AC 83** E00004  
**Quale delle seguenti affermazioni NON è deducibile dal testo?**
- A** Mediamente, il rider lavora nelle fasce orarie legate ai pasti, guadagnando 12 euro per ogni consegna
  - B** Il rider è una nuova figura lavorativa che rientra nel mondo della gig economy
  - C** Il 50% dei rider insoddisfatti vorrebbe un maggiore coinvolgimento dell'azienda nella formazione e nei costi di manutenzione del mezzo
  - D** La gig economy riguarda 750mila lavoratori

- 
- 23 **Rispondere al seguente quesito facendo riferimento al BRANO AC 83** E00005  
**Individuare l'affermazione corretta, stando al contenuto del brano.**
- A** In generale il ricambio occupazionale nel settore dei rider è notevole
  - B** La gig economy ha attirato l'attenzione dell'Inps per l'elevato numero dei lavoratori coinvolti
  - C** Per svolgere l'attività di rider non è necessario alcun requisito
  - D** Solo uno su quattro lavora continuativamente per più di un anno e, in media, tra le 10 e 15 ore a settimana

## DIAGRAMMA RY 00

Individuare il diagramma che soddisfa la relazione insiemistica esistente tra i termini dati.



DIAGRAMMA 1



DIAGRAMMA 2



DIAGRAMMA 3



DIAGRAMMA 4

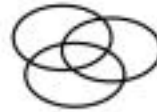


DIAGRAMMA 5



DIAGRAMMA 6

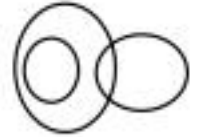


DIAGRAMMA 7

24

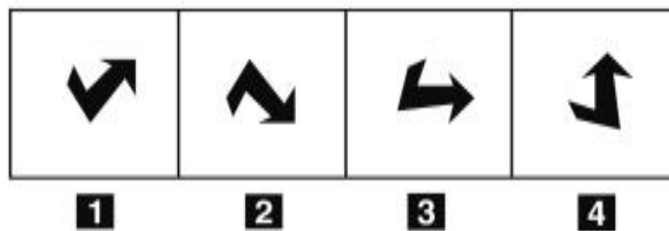
Rispondere al seguente quesito facendo riferimento al **DIAGRAMMA RY 00**

E00027

**Fiumi più lunghi di 5.000 chilometri, Fiumi italiani, Fiumi marchigiani**

- A** Diagramma 2
- B** Diagramma 1
- C** Diagramma 5
- D** Diagramma 4

## FIGURA SS 62



25

Rispondere al seguente quesito facendo riferimento alla **FIGURA SS 62**

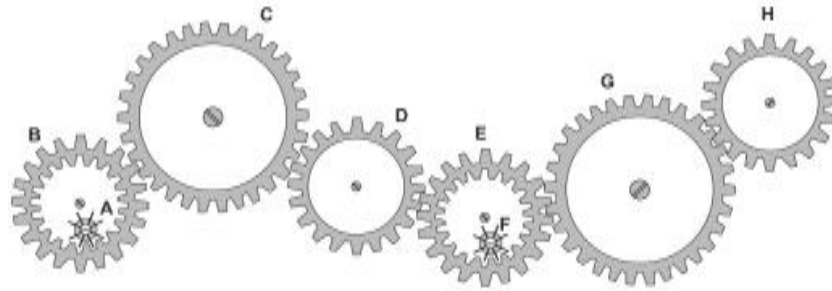
E00012

Individuare la figura da scartare.

- A** Figura 2
- B** Figura 1
- C** Figura 3
- D** Figura 4

**FIGURA ST 86**

Nel sistema raffigurato, le ruote dentate sono libere di ruotare attorno a un perno fisso.



- 26 Rispondere al seguente quesito facendo riferimento alla FIGURA ST 86 E00029  
 Se la ruota dentata B gira in senso orario, in quale senso gira il piccolo ingranaggio F?
- A** In senso inverso rispetto alla ruota dentata D
  - B** In senso orario
  - C** Nello stesso senso del piccolo ingranaggio A
  - D** Il sistema di ingranaggi non può funzionare

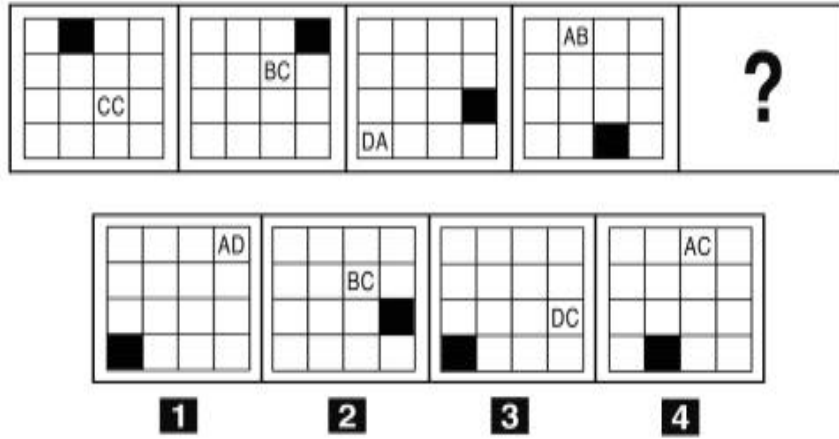
**FIGURA SU 11**

Un'asse graduata di legno è appoggiata su un perno nel suo punto medio e su di essa sono sistemati alcuni gettoni, tutti di peso uguale.



- 27 Rispondere al seguente quesito facendo riferimento alla FIGURA SU 11 E00028  
 Per equilibrare il sistema in figura è necessario spostare un gettone:
- A** dalla posizione 10 alla posizione 12
  - B** dalla posizione 4 alla posizione 5
  - C** dalla posizione 10 alla posizione 11
  - D** nessuna delle altre alternative è corretta: l'asse è già in equilibrio

FIGURA SV 32

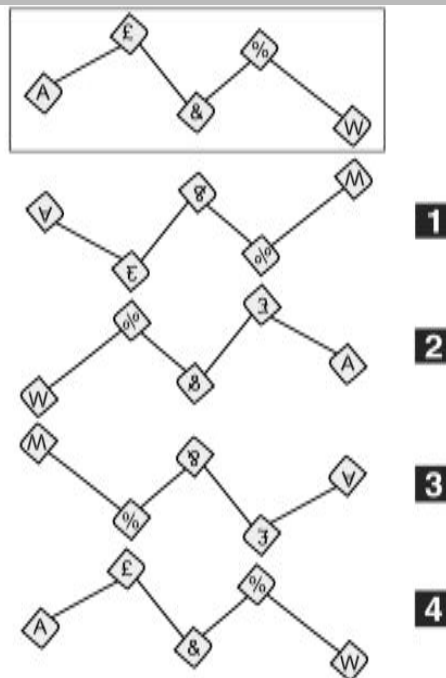


28 Rispondere al seguente quesito facendo riferimento alla FIGURA SV 32  
Individuare la figura che completa la serie.

E00010

- A** Figura 1
- B** Figura 2
- C** Figura 4
- D** Figura 3

FIGURA TZ 13

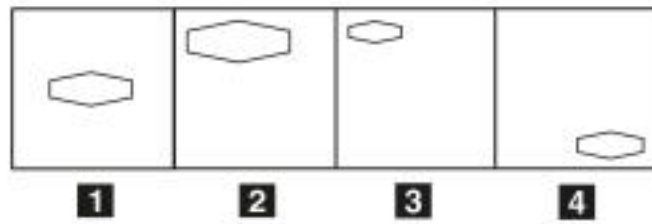


29 Rispondere al seguente quesito facendo riferimento alla FIGURA TZ 13  
Come apparirebbe l'immagine presentata, riflessa in uno specchio d'acqua?

E00011

- A** Come in figura 1
- B** Come in figura 3
- C** Come in figura 4
- D** Come in figura 2





30

Rispondere al seguente quesito facendo riferimento alla FIGURA TP 64

E00013

Posizionare le figure in ordine decrescente.

- A** 2-1-4-3
- B** 3-4-2-1
- C** 3-4-1-2
- D** 1-2-3-4

