



COMUNE DI COMO

Concorso pubblico, per soli esami, per la copertura di n. 13 posti nel profilo di
"Istruttore amministrativo" - Categoria C - a tempo pieno e indeterminato



PROVA 03

NON STRAPPARE

L'INVOLUCRO DI PLASTICA PRIMA CHE VENGA
DATO L'APPOSITO SEGNALE

Incollare sulla scheda delle risposte
il codice a barre sottostante:

Codice questionario



Prodotto con cellulosa certificata
FSC

AZIENDA CON SISTEMA
DI GESTIONE QUALITÀ
CERTIFICATO DA DNV
= ISO 9001 =

C00006

- 1 **Con il termine "inflazione" si designa:**
- A** un aumento generale dei prezzi dei beni e dei servizi
 - B** un eccesso di prodotti sul mercato
 - C** una diminuzione del potere di acquisto, riferita solamente a determinate categorie merceologiche
 - D** una diminuzione repentina dei prezzi

C00007

- 2 **Secondo la Costituzione italiana, come viene concessa l'amnistia?**
- A** Con una legge approvata da ciascuna delle Camere
 - B** Con un decreto del Governo
 - C** Con decreto del Ministro della Giustizia, previo parere obbligatorio del Consiglio Superiore della Magistratura
 - D** Con una sentenza della Corte costituzionale

C00008

- 3 **Le commissioni di lavoro del parlamento europeo si riuniscono per i loro lavori sempre a:**
- A** Bruxelles
 - B** Strasburgo
 - C** Lussemburgo
 - D** L'Aja

C00009

- 4 **Prima di assumere le sue funzioni, il Presidente della Repubblica italiana giura:**
- A** dinanzi al Parlamento in seduta comune
 - B** dinanzi alla Corte Costituzionale
 - C** dinanzi al Governo
 - D** dinanzi al Consiglio dei Ministri

C00014

- 5 **Tre marinai sbucciano un sacco di patate rispettivamente in 6, 8 e 12 ore. Quante ore impiegano a sbucciare insieme le patate di 93 sacchi?**
- A** 248
 - B** 24
 - C** 26
 - D** 496

C00015

- 6 **Un oggetto viene messo in vendita su Internet a un prezzo di 860,00 €. Sapendo che le commissioni da corrispondere al sito sono pari al 6%, il ricavo netto sarà di:**
- A** 808,4 €
 - B** 51,6 €
 - C** 516 €
 - D** 911,6 €

- 7 Da un sacchetto contenente 40 palline bianche, 50 nere e 70 rosse (tutte uguali per peso e grandezza), si estrae una pallina a caso. La probabilità che la pallina estratta NON sia né bianca né nera è:
- A** 7/16
 - B** 4/9
 - C** 1/4
 - D** 8/21

- 8 La piccola Angiolina sta giocando con 249 tessere quadrate di legno colorato, tutte delle stesse dimensioni. Costruisce con le tessere, affiancandole, il più grande quadrato possibile. Considerando il lato di ogni tessera come unità di misura u, quanto vale il perimetro del quadrato ottenuto?
- A** 60 u
 - B** 210 u
 - C** 83 u
 - D** 56 u

- 9 Se l'affermazione "tutti gli avvocati italiani sono alti" è FALSA, quale delle seguenti proposizioni è necessariamente vera?
- A** Almeno un avvocato italiano non è alto
 - B** Alcuni avvocati spagnoli sono bassi
 - C** Nessun avvocato italiano è alto
 - D** Almeno un avvocato italiano è alto

- 10 "Fausto è un chiacchierone. Gli italiani sono tutti chiacchieroni. I chiacchieroni sono tutti audaci". Se le precedenti affermazioni sono vere, quale delle seguenti è necessariamente vera?
- A** Fausto è audace
 - B** Fausto è italiano
 - C** Gli audaci sono tutti chiacchieroni
 - D** I chiacchieroni sono tutti italiani

- 11 "È impossibile negare l'inesistenza di chi si oppone al progetto alternativo". Qual è il corretto significato della precedente affermazione?
- A** Nessuno si oppone al progetto alternativo
 - B** Tutti si oppongono al progetto alternativo
 - C** Esistono almeno due persone che si oppongono al progetto alternativo
 - D** Esiste almeno una persona che non si oppone al progetto alternativo

- 12 Quali, tra i termini proposti, completano correttamente la seguente proporzione? Ricorrente : periodico = X : Y
- A** X = fioco; Y = flebile
 - B** X = processo; Y = quotidiano
 - C** X = saltuario; Y = frequente
 - D** X = raro; Y = spesso

C00022

- 13 **Ai sensi dell'art. 48, comma 2, del d.lgs. 82/2005, la trasmissione del documento informatico per via telematica, effettuata con posta elettronica certificata o mediante altre soluzioni tecnologiche individuate con le linee guida, equivale:**
- A** alla notificazione per mezzo della posta, salvo che la legge disponga diversamente
 - B** sempre alla notificazione per mezzo della posta
 - C** alla notificazione per mezzo dell'ufficiale giudiziario, salvo che la legge disponga diversamente
 - D** alla notificazione per mezzo dell'ufficiale giudiziario, senza alcuna deroga legislativa

C00023

- 14 **Secondo la legge 241/1990, quale dei seguenti dati deve essere contenuto nella comunicazione di avvio del procedimento amministrativo?**
- A** Nei procedimenti a iniziativa di parte, la data di presentazione della relativa istanza
 - B** L'indicazione del numero di atti di cui consta il procedimento
 - C** Nei procedimenti non a iniziativa di parte, la data di presentazione della relativa istanza
 - D** L'indicazione dei singoli controinteressati

C00024

- 15 **Ai sensi del d.lgs. 165/2001, le amministrazioni pubbliche possono stipulare contratti di formazione e lavoro e contratti di somministrazione di lavoro a tempo determinato?**
- A** Sì, ma soltanto per comprovate esigenze di carattere esclusivamente temporaneo o eccezionale e nel rispetto delle condizioni e modalità di reclutamento stabilite nel decreto stesso
 - B** No, in caso di assunzione a tempo determinato le amministrazioni pubbliche possono stipulare solo contratti di lavoro subordinato
 - C** No, le pubbliche amministrazioni assumono esclusivamente con contratti di lavoro subordinato a tempo indeterminato
 - D** Sì, anche qualora l'assunzione non sia dovuta a esigenze di carattere temporaneo o eccezionale

C00025

- 16 **Ai sensi dell'art. 318 del Codice Penale, quale reato commette il pubblico ufficiale, che, per l'esercizio delle sue funzioni o dei suoi poteri, indebitamente riceve da un terzo una retribuzione in denaro?**
- A** Corruzione per l'esercizio della funzione
 - B** Peculato
 - C** Abuso d'ufficio
 - D** Concussione

C00026

- 17 **In base a quanto previsto dall'art. 184 del d.lgs. 267/2000, in materia di bilancio degli enti locali, la liquidazione delle spese compete:**
- A** all'ufficio che ha dato esecuzione al provvedimento di spesa
 - B** all'organo consiliare
 - C** alla segreteria dell'ente locale
 - D** al responsabile della tesoreria dell'ente locale

C00030

- 18 **Se le lancette di un orologio segnano le 6.30 di giovedì, tra 52 ore e 45 minuti saranno:**
- A** le 11.15 di sabato
 - B** le 7.15 di martedì
 - C** le 23.15 di domenica
 - D** le 11.15 di lunedì

-
- 19 **Rispondere al seguente quesito facendo riferimento al BRANO AA 68** C00005
Che cosa intende l'autore del brano con l'espressione [2] "l'intero largo consumo e il food"?
- A** I prodotti realizzati e commercializzati in grandi quantità e a costo accessibile e il settore del cibo
 - B** Il consumo di cibi freschi e il settore surgelati
 - C** Il consumo di cibi confezionati a breve scadenza e i cibi biologici
 - D** L'uso di beni e servizi in generale e il settore surgelati
-
- 20 **Rispondere al seguente quesito facendo riferimento al BRANO AA 68** C00001
Stando al contenuto del brano, quale affermazione è corretta?
- A** L'industria dei cibi surgelati è riuscita a tenere il passo con le nuove esigenze alimentari dei consumatori, che tendono a privilegiare la praticità, la salute, la riduzione degli sprechi e la qualità dei cibi
 - B** I cibi surgelati costituiscono il 2,5% del cibo che in media una famiglia italiana consuma a livello domestico in un anno
 - C** I dati del primo trimestre 2018 dimostrano un andamento in negativo del consumo dei surgelati in Italia rispetto al 2016 e al 2017
 - D** I dati del primo trimestre 2017 coincidono con quelli del primo trimestre 2016
-
- 21 **Rispondere al seguente quesito facendo riferimento al BRANO AA 68** C00002
Quale tra le seguenti alternative è corretta in relazione ai cibi surgelati?
- A** La Germania è tra i Paesi in cui si consumano maggiormente cibi surgelati
 - B** Non è possibile fare alcuna previsione sui trend del settore surgelati in Italia
 - C** I cibi veg e bio hanno soppiantato i cibi surgelati
 - D** Secondo i dati della IAS, in Germania il consumo di cibi surgelati è doppio rispetto all'Italia
-
- 22 **Rispondere al seguente quesito facendo riferimento al BRANO AA 68** C00003
Dal brano è possibile evincere che:
- A** l'industria dei surgelati ha ricevuto un impulso anche dalle recenti "mode alimentari", che privilegiano la salute dell'uomo e dell'ambiente e che sono attente alle particolari esigenze dei consumatori
 - B** il trend di questo mercato è destinato a un calo, dato che l'industria dei surgelati è prettamente legata alle "mode alimentari" del momento
 - C** i cibi surgelati hanno un'alta incidenza sugli sprechi alimentari
 - D** gli italiani consumano per il 63% prodotti freschi
-
- 23 **Rispondere al seguente quesito facendo riferimento al BRANO AA 68** C00004
Quale delle seguenti espressioni può sostituire il termine [1] "performance" senza cambiare il senso della frase?
- A** Risultati
 - B** Esibizioni
 - C** Improvvisazioni
 - D** Numeri

DIAGRAMMA RY 00

Individuare il diagramma che soddisfa la relazione insiemistica esistente tra i termini dati.



DIAGRAMMA 1



DIAGRAMMA 2



DIAGRAMMA 3



DIAGRAMMA 4

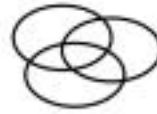


DIAGRAMMA 5



DIAGRAMMA 6

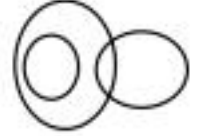


DIAGRAMMA 7

24

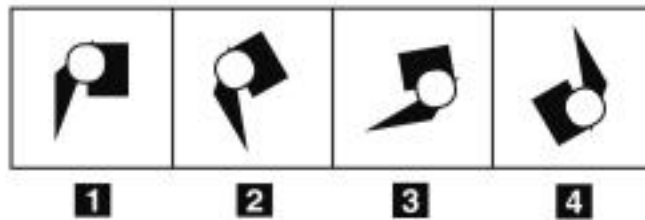
Rispondere al seguente quesito facendo riferimento al **DIAGRAMMA RY 00**

C00027

Computer, Apparecchiature elettroniche, Macchine fotografiche

- A** Diagramma 7
- B** Diagramma 5
- C** Diagramma 6
- D** Diagramma 2

FIGURA SZ 03



25

Rispondere al seguente quesito facendo riferimento alla **FIGURA SZ 03**

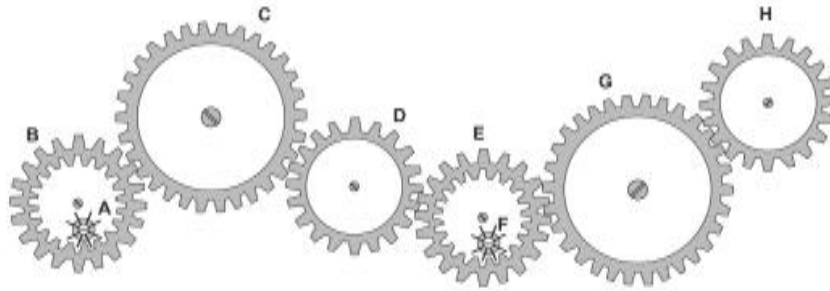
C00012

Individuare la figura da scartare.

- A** Figura 3
- B** Figura 4
- C** Figura 1
- D** Figura 2

FIGURA ST 86

Nel sistema raffigurato, le ruote dentate sono libere di ruotare attorno a un perno fisso.



- 26 Rispondere al seguente quesito facendo riferimento alla FIGURA ST 86 C00029
Se la ruota dentata C gira in senso antiorario, in quale senso gira la ruota dentata D?
- A** Nello stesso senso della ruota dentata A
 - B** Nello stesso senso della ruota dentata H
 - C** In senso inverso rispetto alla ruota dentata A
 - D** Il sistema di ingranaggi non può funzionare

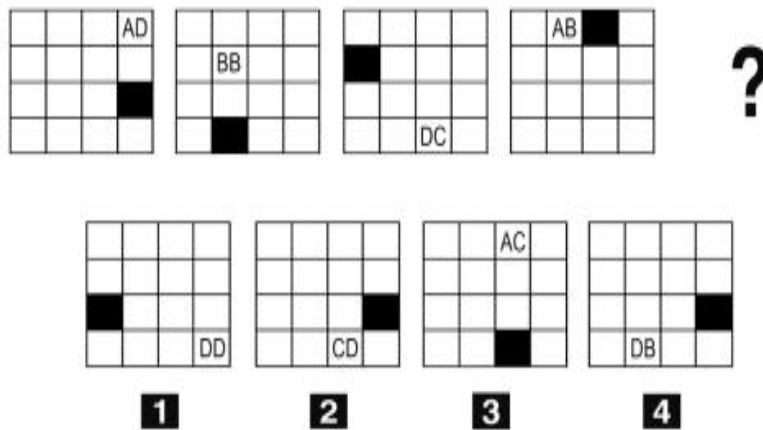
FIGURA SU 10

Un'asse graduata di legno è appoggiata su un perno nel suo punto medio e su di essa sono sistemati alcuni gettoni, tutti di peso uguale.



- 27 Rispondere al seguente quesito facendo riferimento alla FIGURA SU 10 C00028
Per equilibrare il sistema in figura è necessario spostare un gettone:
- A** nessuna delle altre alternative è corretta: l'asse è già in equilibrio
 - B** dalla posizione 5 alla posizione 8
 - C** dalla posizione 10 alla posizione 8
 - D** dalla posizione 5 alla posizione 2

FIGURA SV 87



28

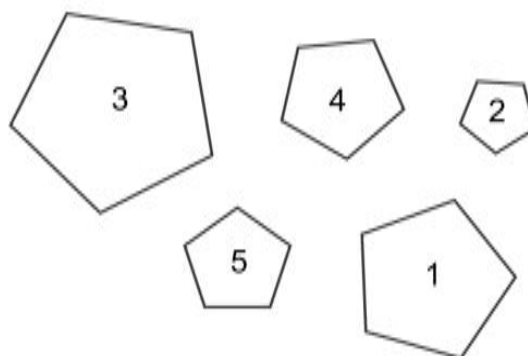
Rispondere al seguente quesito facendo riferimento alla FIGURA SV 87

C00010

Individuare la figura che completa la serie.

- A** Figura 4
- B** Figura 3
- C** Figura 1
- D** Figura 2

FIGURA SY 69



29

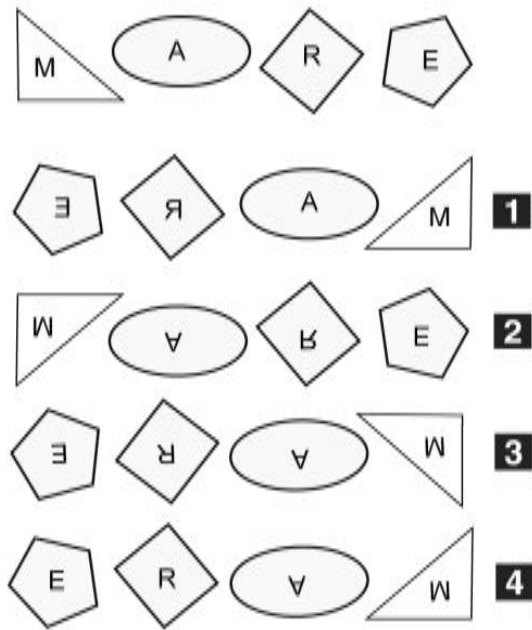
Rispondere al seguente quesito facendo riferimento alla FIGURA SY 69

C00013

Mettere in ordine crescente le figure proposte.

- A** 2-5-4-1-3
- B** 2-4-5-1-3
- C** 5-2-4-3-1
- D** 3-1-4-5-2

FIGURA TZ 10



- 30 Rispondere al seguente quesito facendo riferimento alla FIGURA TZ 10 C00011
 Posizionandosi di fronte a uno specchio con l'immagine qui presentata, come apparirebbe quest'ultima?
- A** Come la figura 1
 - B** Come la figura 3
 - C** Come la figura 2
 - D** Come la figura 4

